

# 4 [鏡図形 ④]

**もんだい** ひだりの ふとわくの なかの えを、かがみに ふつうに うつしたとき、どのように みますか。  
みぎの しかくの なかから 1つずつ えらんで、○をつけましょう。

(1)

(2)

(3)

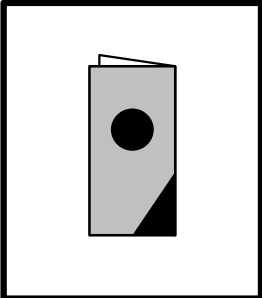
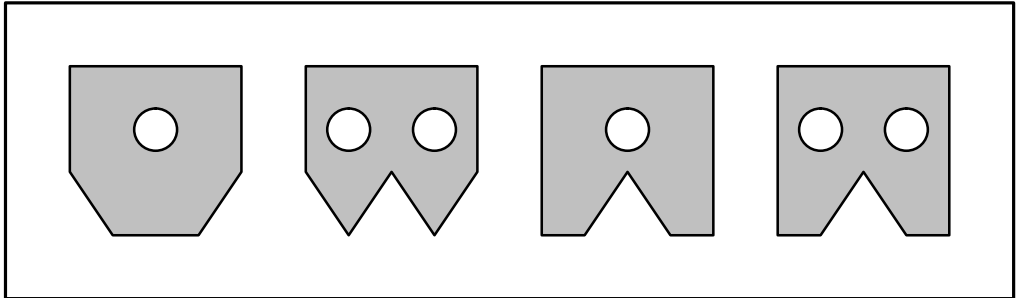
(4)

(5)


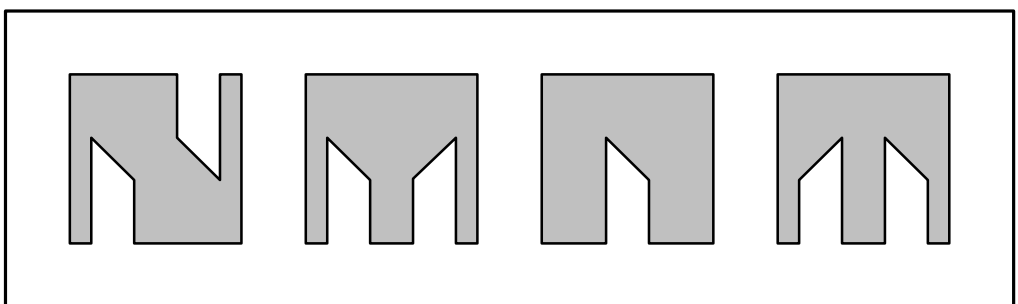
# 13 [切り絵の展開 ③]

**もんだい** ひだりの ふとわくのなかにあるのは、はんぶんにおった おりがみです。このおりがみをおったまま、くろいところを はさみできりとって ひろげたときの えを、みぎから 1つずつえらんで、○をつけましょう。

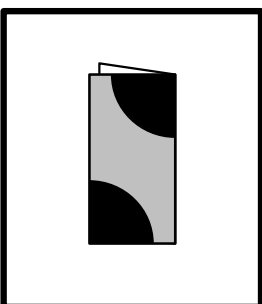
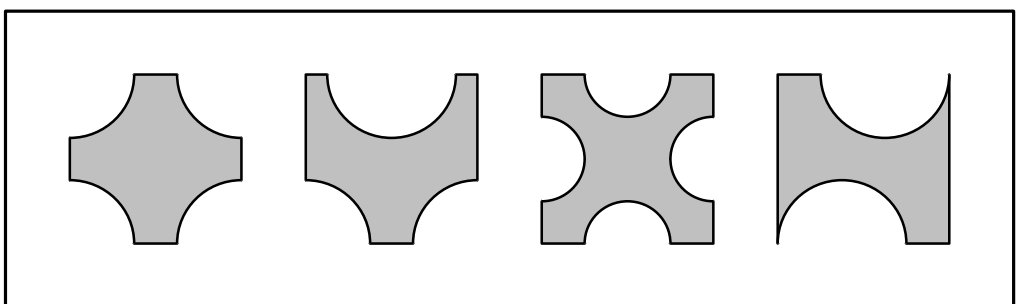
(1)


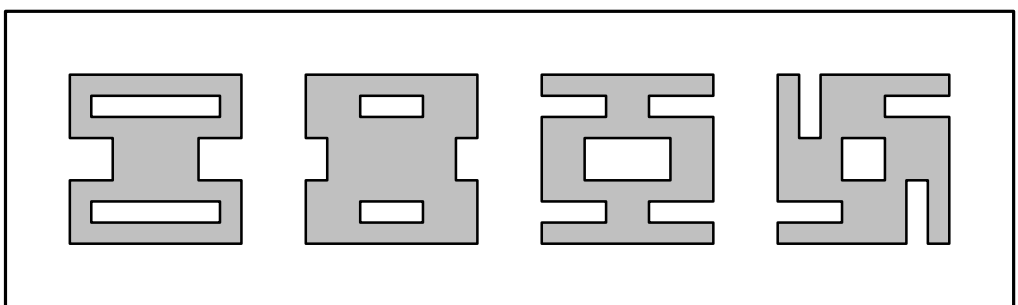
(2)


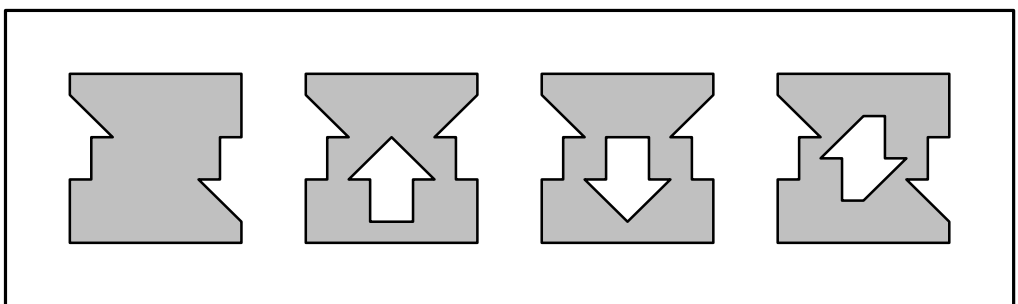
(3)

(4)

(5)

# 16 [切り絵の展開 ⑥]

**もんだい** ひだりの ふとわくのなかにあるのは、はんぶんにおった おりがみです。このおりがみをおったまま、くろいところを はさみできりとって ひろげたときの えを、みぎから 1つずつえらんで、○をつけましょう。

(1)

(2)

(3)

(4)

(5)